

**CONCURSUL NAȚIONAL „LA ȘCOALA CU CEAS”**  
**GEOGRAFIE - CLASA a VIII-a**  
**31 ianuarie 2026**

- Toate subiectele sunt obligatorii. Se acordă 10 puncte din oficiu. Total 100 puncte.
- Timpul efectiv de lucru este de 2 ore.

**Subiectul I (20 de puncte)**

**Citiți cu atenție afirmațiile următoare. Dacă apreciați că afirmația este adevărată scrieți, pe foaia de concurs, litera A, iar dacă apreciați că afirmația este falsă, scrieți litera F, după modelul 11 – A sau 12 – F.**

1. Monumentul Triplex Confinium marchează locul în care se întâlnesc frontierele de stat ale României, Ungariei și Ucrainei.
2. Polonia face parte din grupul statelor carpatice.
3. Munții reprezintă cea mai nouă treaptă a reliefului din țara noastră.
4. O depresiune de tip „golf” este depresiunea Loviștei.
5. Podul natural de la Ponoarele, câmpuri de lapiezuri, Peștera Topolnița sunt forme ale reliefului carstic întâlnite în Podișul Mehedinți.
6. În Dealul Cozancea (265 m) se înregistrează altitudinea maximă din Podișul Bârladului.
7. Cea mai înaltă subdiviziune a Câmpiei Române este Câmpia Piteștiului.
8. Cea mai mare altitudine din Delta Dunării este înregistrată în grindul Caraorman și este de 12,4 m.
9. Briza marină bate dimineața dinspre mare spre litoral.
10. Temperatura maximă absolută a fost înregistrată la stația meteorologică Ion Sion, din județul Brăila, pe 10 august 1951 și a fost de +44,5°C.

**Subiectul II (20 de puncte)**

**Scrieți, pe foaia de concurs, litera corespunzătoare răspunsului corect:**

1. Față de Capul Tarifa, România se află la o distanță de:  
a. 2600 km                      b. 2700 km                      c. 2800 km                      d. 2900 km
2. Față de cele patru extremități ale României, Soarele răsare cel mai devreme la:  
a. Beba Veche                      b. Horodiștea                      c. Sulina                      d. Zimnicea
3. Alunecările de teren de tip glinee sunt specifice:  
a. Câmpiei Bărăganului                      b. Depresiunii Colinare a Transilvaniei  
c. Depresiunii Maramureșului                      d. Podișului Mehedinți
4. Depresiunea Pucioasa din Subcarpați este străbătută de râul:  
a. Buzău                      b. Ialomița                      c. Olt                      d. Prahova
5. Altitudinile în Podișul Getic scad de la:  
a. est la vest                      b. nord la sud                      c. sud la nord                      d. vest la est
6. Peșterile La Adam și Gura Dobrogei sunt localizate în Podișul:  
a. Babadag                      b. Casimcei                      c. Medgidiei                      d. Oltinei
7. O câmpie tabulară cu dune de nisip este câmpia:  
a. Aradului                      b. Carei                      c. Jimboliei                      d. Timișului
8. Formarea „insulelor de căldură” este determinată de:  
a. factorul antropic                      b. prezența Mării Negre  
c. relief                      d. vânturile cu caracter permanent
9. Șisturi verzi se întâlnesc în structura geologică a Podișului:  
a. Casimcei                      b. Getic                      c. Mehedinți                      d. Moldovei.
10. În România, cantitatea de precipitații scade:  
a. din centru la periferie                      b. de la est la vest                      c. de la nord la sud                      d. de la vest la est

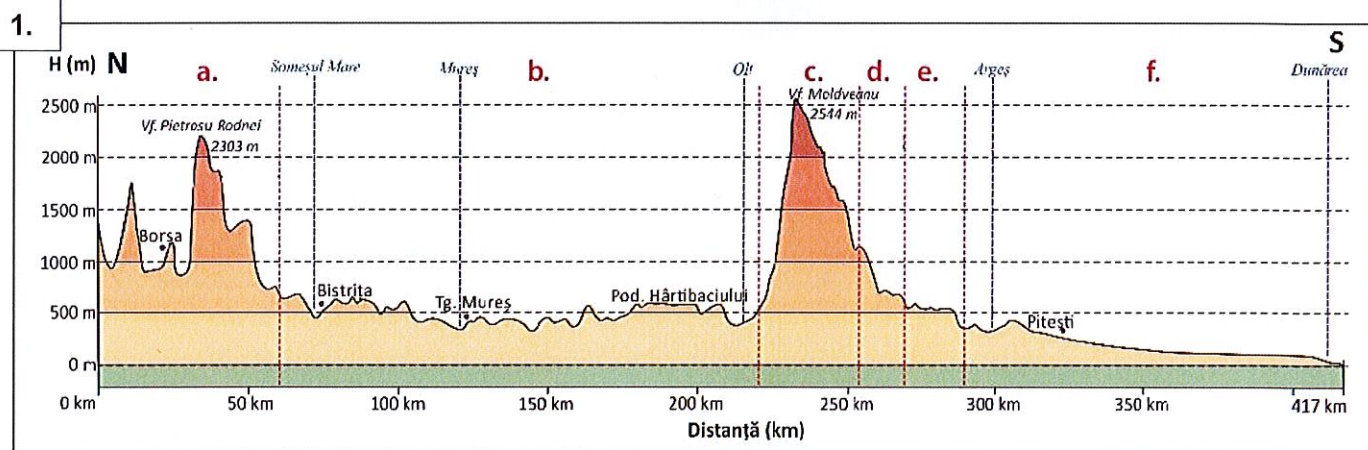
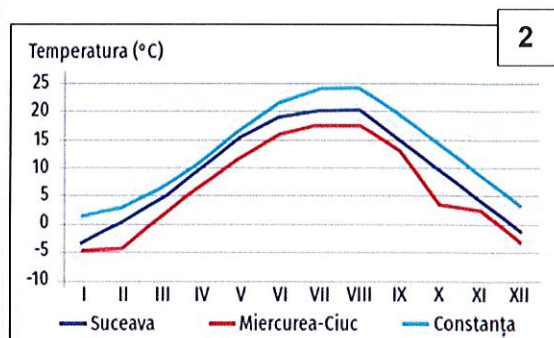
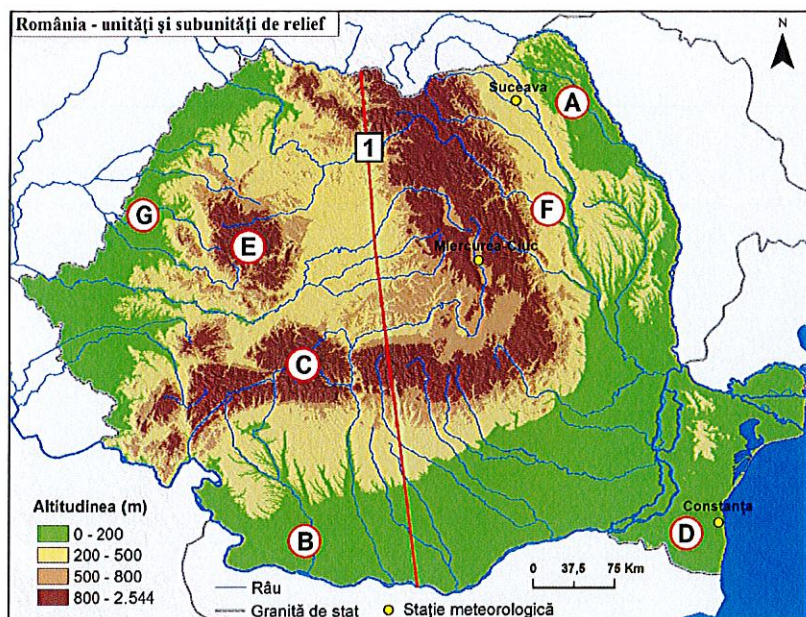
**Subiectul III (12 puncte)**

**Precizați:**

1. două argumente care să susțină apartenența României la țările central-europene;
2. doi factori care au contribuit la formarea Deltei Dunării;
3. două fenomene naturale deosebite întâlnite în Subcarpații de Curbură;
4. numele a două unități/subunități de relief în care sunt specifice crovurile;
5. două influențe climatice care se resimt pe teritoriul României;
6. numele a două subunități de relief unde se manifestă foehnul.

## Subiectul IV (22 de puncte)

Harta de mai jos se referă la **subiectul IV, A și B**. Pe hartă sunt marcate unități și subunități de relief, cu litere de la **A** la **G**, linia profilului transversal, marcată cu cifra **1**, precum și trei orașe în care se află stații meteorologice.



**A.**

1. Scrieți, pe foaia de concurs, numele unităților/subunități de relief marcate, pe profil, cu literele **a, b, d, e** și **f**, după modelul **c** – Grupa Munților Făgăraș.
2. Precizați numele subunităților de relief marcate, pe hartă, cu literele **A, B, C** și **F**.
3. Pentru subunitatea de relief marcată, pe hartă, cu litera **E**, precizați:
  - a. modul de formare;
  - b. o caracteristică referitoare la alcătuirea petrografică;
  - c. numele a două masive montane care depășesc altitudinea de 1800 m;
  - d. numele unei zone de trecere (pas/trecătoare);
4. Prezentați două deosebiri între clima subunității de relief marcate, pe hartă, cu litera **D** și clima subunității de relief marcate, pe hartă, cu litera **G**.

**Notă 1:** Deosebirile privind **clima** se pot referi la oricare dintre următoarele aspecte: etaj climatic, temperatură medie anuală, precipitații medii anuale, influențe climatice, vânturi, alte aspecte specifice ale climatei.

**Notă 2:** Punctajul complet va fi acordat numai dacă cele două subunități de relief vor fi tratate comparativ și nu separat.

**Notă 3:** Se poate face referire la subunitățile de relief respective cu numele lor sau cu literele cu care sunt marcate pe hartă.


**B.**

Graficul marcat cu cifra **2** prezintă variația temperaturilor medii lunare la trei stații meteorologice din țară.

1. Precizați numele stației meteorologice unde se înregistrează cele mai mici temperaturi pe tot parcursul anului.

2. Prezentați o cauză pentru care la stația meteorologică din orașul Suceava se înregistrează temperaturi medii lunare mai mici decât la stația meteorologică din orașul Constanța, deși ambele stații meteorologice sunt situate în unități de podiș.

### Subiectul V (16 puncte)



În imaginile marcate cu litere de la **a** la **f** sunt prezentate tipuri genetice de relief din România. Răspundeți următoarelor cerințe:

1. În imaginea marcată cu litera **a** sunt ilustrați munți alcătuiți din șisturi cristaline. Precizați numele a două unități montane din Carpații Orientali cu această alcătuire petrografică.
2. Imaginea marcată cu litera **b** este din nordul Munților Perșani. Precizați forma de relief ilustrată.
3. Precizați forma de relief marcată cu cifra **1** din imaginea marcată cu litera **c**.
4. În imaginea marcată cu litera **d** sunt ilustrate stânci cu forme deosebite generate de acțiunea agenților externi asupra conglomeratelor. Precizați numele a două unități montane din Carpații Românești cu această alcătuire petrografică.
5. În imaginea marcată cu litera **e** este prezentat relieful generat de acțiunea ghețarilor montani. Numiți forma de relief marcată cu cifra **1** rezultată în urma acestei acțiuni.
6. Precizați numele unității montane în care tipul de relief din imaginea marcată cu litera **f** este reprezentativ.

**CONCURSUL NAȚIONAL „LA ȘCOALA CU CEAS”**  
**GEOGRAFIE - CLASA a VIII-a**  
**31 ianuarie 2026**

**BAREM DE EVALUARE ȘI DE NOTARE**

**CLASA a VIII-a**

- Se punctează oricare alte formulări / modalități de rezolvare corectă a cerințelor.
- Nu se acordă punctaje intermediare, altele decât cele precizate explicit prin barem.

**Subiectul I ..... 20 puncte**

Se acordă câte **2 puncte** pentru fiecare răspuns corect:

1. - F; 2. - A; 3. - F; 4. - F; 5. - A; 6. - F; 7. - A; 8. - F; 9. - A; 10. - A.

**Total Subiectul I = 20 puncte**

**Subiectul II ..... 20 puncte**

Se acordă câte **2 puncte** pentru fiecare răspuns corect:

1. b; 2. c; 3. b; 4. b; 5. b; 6. b; 7. b; 8. a; 9. a; 10. d.

**Total Subiectul II = 20 puncte**

**Subiectul III ..... 12 puncte**

Se acordă **12 puncte**, astfel:

1. Se acordă **2 puncte**, câte **1 punct** pentru fiecare argument precizat corect. *Exemplu de răspuns:* România este situată la jumătatea distanței dintre limita de est și de vest a Europei/ la nord de Dunăre / la vest de Istmul Ponto-Baltic / în partea „peninsulară” a Europei etc. – **2p**. Se acceptă orice altă formulare corectă.

2. Se acordă **2 puncte**, câte **1 punct** pentru fiecare factor precizat corect, *de exemplu:* Dunărea / procesul de aluvionare/sedimentare; Marea Neagră/ existența unui golf cu ape mici / panta redusă a platformei continentale / marea redusă / curenții circulari etc. - **2p**.

3. Se acordă **2 puncte**, câte **1 punct** pentru fiecare fenomen natural precizat corect, *de exemplu:* vulcanii noroioși; focurile vii; fenomenele carstice în sare.

4. Se acordă **2 puncte**, câte **1 punct** pentru fiecare unitate/ subunitate de relief precizată corect, *de exemplu:* Câmpia Română/Câmpia Bărăganului; Podișul Dobrogei/Podișul Dobrogei de Sud; Câmpia de Vest etc.

5. Se acordă **2 puncte**, câte **1 punct** pentru fiecare influență climatică precizată corect, *de exemplu:* baltică/scandinavo-baltică/nord-vestică;oceanică/atlantică/vestică; mediteraneeană/submediteraneeană/ subtropicală / sud-vestică; continentală/de ariditate/ estică; pontică/marină.

6. Se acordă **2 puncte**, câte **1 punct** pentru fiecare unitate/ subunitate de relief precizată corect, *de exemplu:* nordul Munților Făgăraș/ Depresiunea Făgăraș, sud-estul Munților Apuseni/Culoarul Alba-Iulia – Turda, Podișul Mehedinți, Subcarpații/Subcarpații Curburii/Getici/Moldovei, sud-estul Carpaților de Curbură/Grupa Sudică a Carpaților Orientali etc.

**Total Subiectul III = 12 puncte**

**Subiectul IV ..... 22 puncte**

**A. Se acordă 19 puncte**, astfel:

1. Se acordă **5 puncte**, câte **1 punct** pentru fiecare unitate/ subunitate de relief precizată corect:

**a** – Grupa Nordică a Carpaților Orientali/ Carpații Maramureșului și Bucovinei/ Munții Rodnei;  
**b** – Depresiunea Colinară a Transilvaniei / Podișul Transilvaniei; **d** – Subcarpații/Subcarpații Getici;  
**e**. Podișul Getic/Piemontul Getic/ Platforma Argeșului; **f** – Câmpia Română / Sectorul central al Câmpiei Române.

2. Se acordă **4 puncte**, câte **1 punct** pentru fiecare unitate/ subunitate de relief precizată corect:

**A** – Câmpia Moldovei/ Câmpia Jijiei; **B** – Câmpia Olteniei/Sectorul vestic al Câmpiei Române;  
**C** – Grupa Parâng; **F** – Subcarpații Moldovei.

3. Se acordă **6 puncte**, astfel:

**a.** Se acordă **2 puncte**: încrețirea scoarței terestre – **1p**; vulcanism – **1p**;

**b.** Se acordă **1 punct**: diversitate petrografică / mozaic petrografic / toate tipurile de roci etc.

**c.** Se acordă **2 puncte**, câte **1 punct** pentru fiecare masiv muntos precizat corect, *de exemplu:* Munții Bihor; Munții Vlădeasa; Munții Muntele Mare.

d. Se acordă **1 punct** pentru precizarea corectă a unei zone de trecere, *de exemplu*: Buceș; Vălișoara; Ciucea etc.

4. Se acordă **4 puncte**, câte **2 puncte** pentru fiecare deosebire corect prezentată, între clima subunității marcate, pe hartă, cu litera **D** (Podișul Dobrogei de Sud) și clima subunității de relief marcate, pe hartă, cu litera **G** (Câmpia de Vest/Câmpia Crișurilor).

*Exemplu de răspuns:*

**Deosebiri:**

- în Podișul Dobrogei de Sud se resimt influențe climatice de ariditate (continentale/est-europene/estice)/pontice (marine) spre deosebire de Câmpia de Vest/Câmpia Crișurilor unde se resimt influențe climatice oceanice (vestice);
- în Podișul Dobrogei de Sud bate Crivățul/briza marină spre deosebire de Câmpia de Vest/Câmpia Crișurilor unde bat Vânturile de Vest;
- în Podișul Dobrogei de Sud se înregistrează precipitații medii anuale de 400-500/sub 400 mm/an spre deosebire de Câmpia Crișurilor unde acestea sunt de 500-600/700 mm/an.

Se acceptă orice altă deosebire corect formulată. Pentru răspuns parțial corect se acordă *1p*.

**Total subiectul IVA (5+4+6+4) = 19 puncte**

- B. Se acordă **3 puncte**, astfel:

1. Miercurea Ciuc – **1p**;

2. Se acordă **2 puncte**, pentru prezentarea corectă a unei cauze: *Exemplu de răspuns*: Suceava este localizată în nordul țării/ temperaturile medii anuale scad de la sud la nord, pe fondul micșorării unghiului de incidență dintre razele solare și suprafața terestră / cantitatea de radiație solară primită de suprafața terestră variază în funcție de latitudine, este mai ridicată în regiunile sudice comparativ cu cele aflate în nordul țării / orașul Suceava este situat la altitudini mai mari decât orașul Constanța, situat pe litoral și temperaturile scad odată cu altitudinea / la Suceava se resimt influențe climatice scandinavo-baltice, iar la Constanța sunt influențe climatice pontice. Se acceptă orice altă deosebire corect formulată. Pentru răspuns parțial corect se acordă *1p*.

**Total subiectul IVB (1+2) = 3 puncte**

**Total Subiectul IV (19+3)= 22 puncte**

**Subiectul V..... 16 puncte**

1. Se acordă **4 puncte**, câte **2 puncte** pentru fiecare unitate montană precizată corect, *de exemplu*: Munții Rodnei; Munții Maramureșului; Munții Suhard; Obcina Mestecănișului; Munții Bistriței; Munții Giurgeu etc.
2. crater vulcanic - **2 puncte**;
3. faleză - **2 puncte**;
4. Se acordă **4 puncte**, câte **2 puncte** pentru fiecare unitate montană precizată corect, *de exemplu*: Munții Bucegi; Munții Ciucaș; Munții Ceahlău.
5. circuri glaciare - **2 puncte**;
6. Munții Apuseni/Munții Trascău - **2 puncte**.

**Total subiectul V(4+2+2+4+2+2) = 16 puncte**

**TOTAL (SI + SII + SIII + SIV + SV) = 90 PUNCTE**

**OFICIU = 10 PUNCTE**